

## Диагностический материал

Прочитайте список профессий, сравнивая их попарно. После каждой профессии стоит буква. Это код профессии. Выберите профессию, которая для вас более привлекательна, и в бланке ответов рядом с ее кодом поставьте «+». Если в паре «автомеханик (Р)» — «физиотерапевт (С)» для вас интереснее профессия автомеханика. Код этой профессии — Р. Значит, в бланке ответов в строке «Р» надо поставить «+».

<b>Р</b>									
<b>И</b>									
<b>С</b>									
<b>О</b>									
<b>П</b>									
<b>А</b>									

### Обработка результатов

Подсчитайте количество плюсов в каждой строке:

8—10 — ярко выраженный тип;

5—7 — средне выраженный тип;

2—4 — слабо выраженный тип.

Максимальное количество плюсов указывает на вашу принадлежность к одному из шести профессиональных типов.

**1. РЕАЛИСТИЧЕСКИЙ ТИП (Р).** Люди, относящиеся к этому типу, предпочитают выполнять работу, требующую силы, ловкости, подвижности, хорошей координации движений, навыков практической работы. Результаты труда профессионалов этого типа ощутимы и реальны — их руками создан весь окружающий нас предметный мир. Люди реалистического типа охотнее делают, чем говорят, они настойчивы и уверены в себе, в работе предпочитают четкие и конкретные указания. Придерживаются традиционных ценностей, поэтому критически относятся к новым идеям. Близкие типы: интеллектуальный и офисный. Противоположный тип — социальный.

**2. ИНТЕЛЛЕКТУАЛЬНЫЙ (И).** Людей, относящихся к этому типу, отличают аналитические способности, рационализм, независимость и оригинальность мышления, умение точно формулировать и излагать свои мысли, решать логические задачи, генерировать новые идеи. Они часто выбирают научную и исследовательскую работу. Им нужна свобода для творчества. Работа способна увлечь их настолько, что стирается грань между рабочим временем и досугом. Мир идей для них может быть важнее, чем общение с людьми. Материальное благополучие для них обычно не на первом месте. Близкие типы: реалистический и артистический. Противоположный тип: предпринимательский.

**3. СОЦИАЛЬНЫЙ (С).** Люди, относящиеся к этому типу, предпочитают профессиональную деятельность, связанную с обучением, воспитанием, лечением, консультированием, обслуживанием. Люди этого типа гуманны, чувствительны, активны, ориентированы на социальные нормы, способны понять эмоциональное состояние другого человека. Для них характерно хорошее речевое развитие, живая мимика, интерес к людям,

готовность прийти на помощь. Материальное благополучие для них обычно не на первом месте. Близкие типы: артистический и предпринимательский. Противоположный тип: реалистический.

**4. ОФИСНЫЙ (О).** Люди этого типа обычно проявляют склонность к работе, связанной с обработкой и систематизацией информации, предоставленной в виде условных знаков, цифр, формул, текстов (ведение документации, установление количественных соотношений между числами и условными знаками). Они отличаются аккуратностью, пунктуальностью, практичностью, ориентированы на социальные нормы, предпочитают четко регламентированную работу. Материальное благополучие для них более значимо, чем для других типов. Склонны к работе, не связанной с широкими контактами и принятием ответственных решений. Близкие типы: реалистический и предпринимательский. Противоположный тип: артистический.

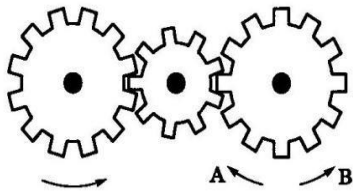
**5. ПРЕДПРИНИМАТЕЛЬСКИЙ (П).** Люди этого типа находчивы, практичны, быстро ориентируются в сложной обстановке, склонны к самостоятельному принятию решений, социально активны, готовы рисковать, ищут острые ощущения. Любят и умеют общаться. Имеют высокий уровень притязаний. Избегают занятий, требующих усидчивости, большой и длительной концентрации внимания. Для них значимо материальное благополучие. Предпочитают деятельность, требующую энергии, организаторских способностей, связанную с руководством, управлением и влиянием на людей. Близкие типы: офисный и социальный. Противоположный тип: исследовательский.

**6. АРТИСТИЧЕСКИЙ (А).** Люди этого типа оригинальны, независимы в принятии решений, редко ориентируются на социальные нормы и одобрение, обладают необычным взглядом на жизнь, гибкостью мышления, эмоциональной чувствительностью. Отношения с людьми строят, опираясь на свои ощущения, эмоции, воображение, интуицию. Они не выносят жесткой регламентации, предпочитая свободный график работы. Часто выбирают профессии, связанные с литературой, театром, кино, музыкой, изобразительным искусством. Близкие типы: интеллектуальный и социальный. Противоположный тип: офисный.

В чистом виде эти профессиональные типы встречаются редко —обычно можно говорить только о преобладающем типе личности. Выбирая профессию, необходимо учитывать свой профессиональный тип. Если профессия не соответствует вашему типу личности, работа будет даваться вам ценой значительного нервно-психического напряжения.

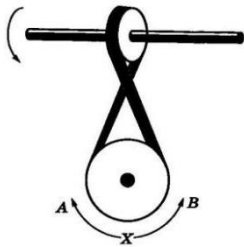
2. Методика «Определение технических способностей» Методика представляет собой сокращенный вариант (30 заданий) Теста механической понятливости Беннета и служит для выявления технических способностей. Допускается выполнение заданий в любой последовательности и сокращение числа заданий. По результатам выполнения заданий определяется уровень технических способностей (высокий, выше среднего, средний, ниже среднего, низкий). Инструкция. Рассмотрите рисунок, прочитайте вопрос к нему и отметьте в бланке один из трех вариантов решений.

1. Если левая шестерня поворачивается в указанном стрелкой направлении, то в каком направлении повернется правая?



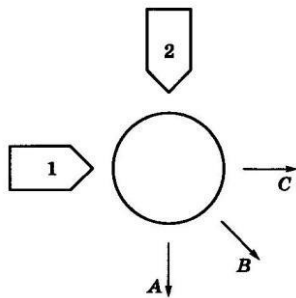
1. В направлении стрелки А.
2. В направлении стрелки В.
3. Не знаю.

2. Если верхнее колесо вращается в направлении, указанном стрелкой, то в какую сторону вращается нижнее колесо?

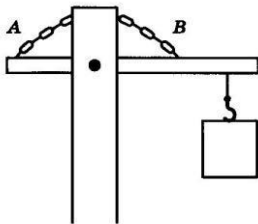


1. В направлении А.
2. В обоих направлениях.
3. В направлении В.


3. Куда будет двигаться диск, если на него действуют одновременно две одинаковые силы 1 и 2?



1. В направлении стрелки А.
2. В направлении стрелки В.
3. В направлении стрелки С.
4. Нужны ли обе цепи для поддержки груза или достаточно одной? Какой?



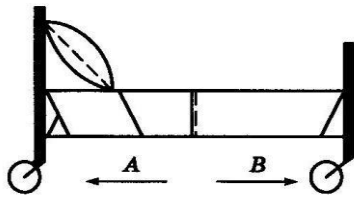
1. Достаточно цепи А.
2. Достаточно цепи В.
3. Нужны обе цепи.
5. Какая из машин с жидкостью в бочке тормозит?



1. Машина А.
2. Машина Б.

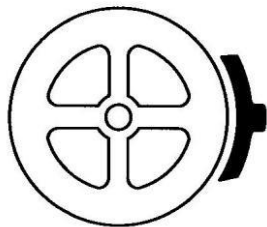
3. Машина В.

6. В каком направлении двигали кровать последний раз?



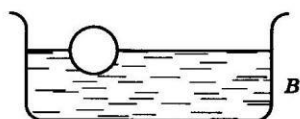
1. В направлении стрелки А.
2. В направлении стрелки В.
3. Не знаю.

7. Колесо и тормозная колодка изготовлены из одного и того же материала. Что быстрее изнашивается?



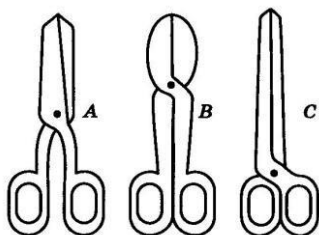
1. Колесо изнашивается быстрее.
2. Колодка изнашивается быстрее.
3. Колесо и колодка изнашиваются одинаково.

8. Одинаковой ли плотности жидкостями заполнены емкости или одна из жидкостей плотнее, чем другая (шары одинаковые)?

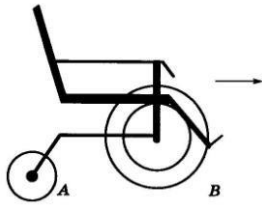


1. Жидкости одинаковой плотности.
2. Жидкость А плотнее.
3. Жидкость В плотнее.

9. Какими ножницами легче резать лист железа?



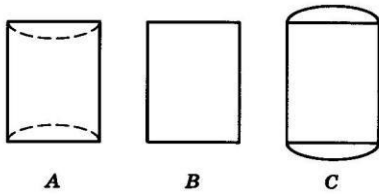
1. Ножницами А.
2. Ножницами В.
3. Ножницами С.



10. Какое колесо кресла-коляски вращается быстрее при движении коляски?

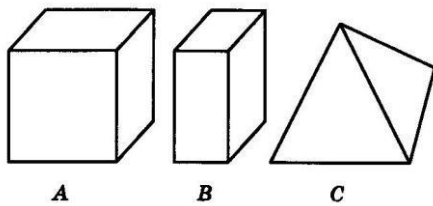
1. Колесо А вращается быстрее.
2. Колеса вращаются с одинаковой скоростью.
3. Колесо В вращается быстрее.

11. Как будет изменяться форма запаянной тонкостенной жестяной банки, если ее нагревать?



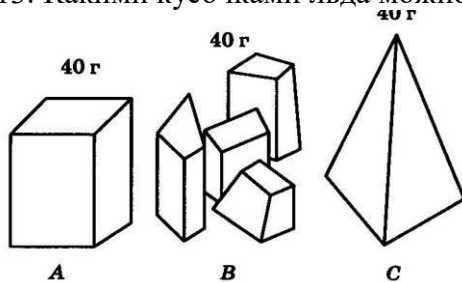
1. Как показано на рисунке А.
2. Как показано на рисунке В.
3. Как показано на рисунке С.

12. Вес фигур А, В и С одинаковый. Какую из них труднее опрокинуть?



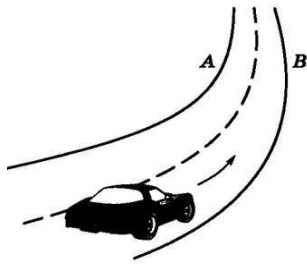
1. Фигуру А.
2. Фигуру В.
3. Фигуру С.

13. Какими кусочками льда можно быстрее охладить стакан воды?



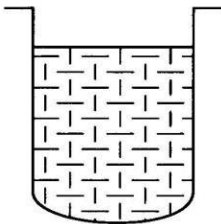
1. Куском на картинке А.
2. Кусочками на картинке В.
3. Куском на картинке С.

14. В какую сторону занесет эту машину, движущуюся по стрелке, на повороте?



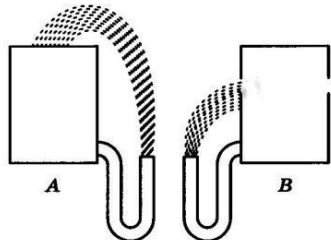
1. В любую сторону.
2. В сторону А.
3. В сторону В.

15. В емкости находится лед. Как изменится уровень воды по сравнению с уровнем льда после его таяния?



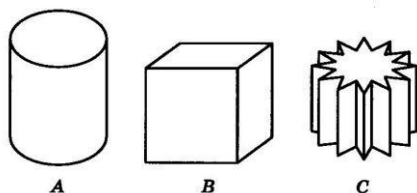
1. Уровень повысится.
2. Уровень понизится.
3. Уровень не изменится.

16. На какую высоту поднимется вода из шланга, если ее выпустить из заполненных емкостей А и В?



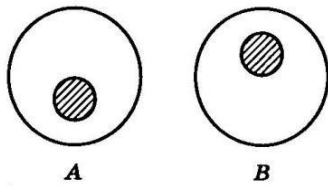
1. Как показано на рисунке А.
2. Как показано на рисунке В.
3. До высоты резервуаров.

17. Какой из этих горячих цельнометаллических предметов остынет быстрее, если их вынести на воздух?



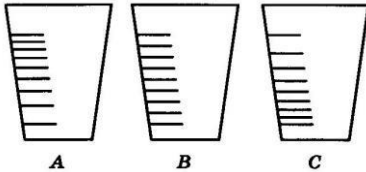
1. Предмет А.
2. Предмет В.
3. Предмет С.

18. В каком положении остановится деревянный диск со вставленным в него металлическим кружком, если его толкнуть?



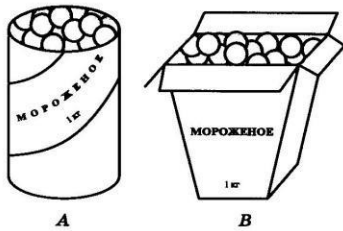
1. В положении А.
2. В положении В.
3. В любом положении.

19. На какой емкости верно нанесены деления, обозначающие объемы?




1. На емкости А.
2. На емкости В.
3. На емкости С.

20. В каком пакете мороженое растает быстрее?



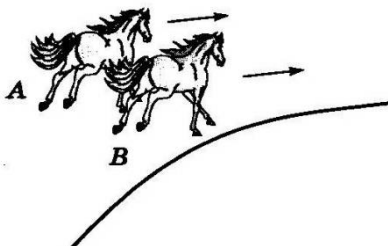
1. В пакете А.
2. В пакете В.
3. Одинаково.

21. На дне емкости находится песок. Поверх него — галька. Как изменится уровень, если гальку и песок перемешать?



1. Уровень повысится.
2. Уровень понизится.
3. Уровень останется прежним.

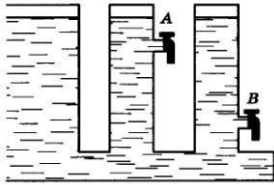
22. Какая из лошадок должна бежать на повороте быстрее для того, чтобы ее не обогнала другая?



1. Лошадка А.

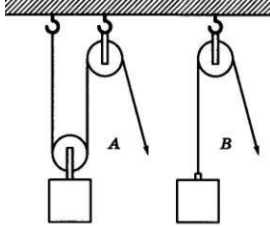
2. Обе лошадки должны бежать с одинаковой скоростью.
3. Лошадка В.

23. Из какого крана сильнее должна бить струя воды, если их открыть одновременно?

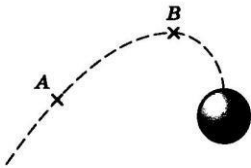


1. Из крана А.
2. Из крана В.
3. Из обоих одинаково.

24. В каком случае легче поднять одинаковый по весу груз?



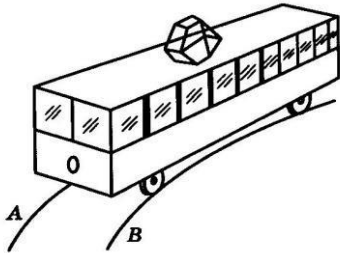
1. В случае А.
2. В случае В.
3. В обоих случаях одинаково.



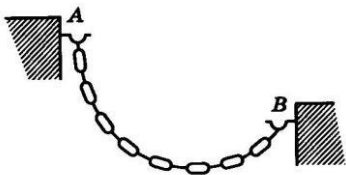
25. В какой точке шарик движется быстрее?

1. В точках А и В скорость одинаковая.
2. В точке А скорость больше.
3. В точке В скорость больше.

26. Какой из двух рельсов должен быть выше на повороте?



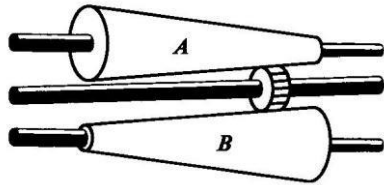
1. Рельс А.
  2. Рельс В.
  3. Оба рельса должны быть одинаковыми по высоте.
27. Как распределяется вес между крюками А и В?



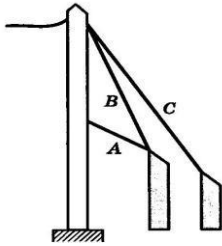
1. Сила тяжести на обоих крюках одинаковая.
2. На крюке А сила тяжести больше
3. На крюке В сила тяжести больше.



28. На оси X находится ведущее колесо, вращающее конусы. Какой из них будет вращаться быстрее?



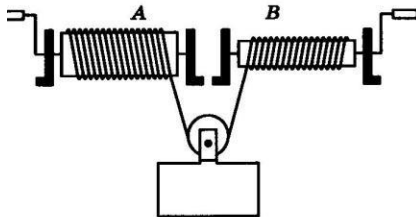
1. Конус А.
2. Оба конуса будут вращаться одинаково.
3. Конус В.



29. Какой из тросов удерживает столб надежнее?

1. Трос А.
2. Трос В.
3. Трос С.

30. Какой из лебедок труднее поднимать груз?



1. Лебедкой А.
2. Обеими лебедками одинаково.
3. Лебедкой В.